



















[illegible]

VÝPIS PREKLADU		
OZN.	FČPIS	POČET
	Keramický pruhův plochý 11,5 el. 1250mm	7

LEBENSWAHRSCHEID	
	Welche Variante ist richtig (ausw.)
	Welche Variante ist die richtige Antwort? (nur eine MC)
	Welche Variante ist die richtige Antwort? (mehrere MC)
	Welche Variante ist die richtige Antwort? (nur eine MC)
	Welche Variante ist die richtige Antwort? (mehrere MC)
	Welche Variante ist die richtige Antwort? (nur eine MC)
	Welche Variante ist die richtige Antwort? (mehrere MC)
	Welche Variante ist die richtige Antwort? (nur eine MC)
	Welche Variante ist die richtige Antwort? (mehrere MC)
	Welche Variante ist die richtige Antwort? (nur eine MC)
	Welche Variante ist die richtige Antwort? (mehrere MC)
	Welche Variante ist die richtige Antwort? (nur eine MC)
	Welche Variante ist die richtige Antwort? (mehrere MC)
	Welche Variante ist die richtige Antwort? (nur eine MC)
	Welche Variante ist die richtige Antwort? (mehrere MC)
	Welche Variante ist die richtige Antwort? (nur eine MC)
	Welche Variante ist die richtige Antwort? (mehrere MC)
	Welche Variante ist die richtige Antwort? (nur eine MC)
	Welche Variante ist die richtige Antwort? (mehrere MC)

[illegible]